



第6课时 9的乘法口诀(1)

基础过关

bǎ kǒu jué bǔ chōng wán zhěng

一、把口诀补充完整。

二九()

三九()

()九四十五

六九()

八九()

()九八十一

七九()

()九三十六

一()得九

zhí jiē xiě chū dé shù

二、直接写出得数。

$3 \times 9 =$

$4 \times 9 =$

$9 \times 8 =$

$6 \times 9 =$

$5 \times 9 =$

$2 \times 9 =$

$9 \times 2 =$

$8 \times 9 =$

$9 \times 4 =$

$9 \times 5 =$

$9 \times 7 =$

$9 \times 3 =$

zhǎo wèi zhì

lián yì lián

三、找位置。(连一连)



5×9



2×9



9×7



6×9



8×9



yí gòng yǒu duō shǎo piàn zhú bǎn

四、一共有多少片竹板?



一个快板有5片竹板。



能力提升

kuài lè xiǎo cháng shì

五、快乐小尝试。

$9 \times 1 = 10 - ()$

$9 \times 2 = 20 - ()$

$9 \times 3 = 30 - ()$

$9 \times 4 = () - ()$

$9 \times 5 = () - ()$

$9 \times 6 = () - ()$

根据你发现的规律,再写出三个像上面这样的算式。



第7课时 9的乘法口诀(2)

基础过关

kǒu suàn

一、口算。

$4 \times 9 =$

$9 \times 6 =$

$8 \times 9 =$

$9 \times 5 =$

$9 \times 2 =$

$9 \times 9 =$

$7 \times 9 =$

$1 \times 9 =$

xià miàn měi zǔ suàn shì kǎ piàn de dé shù xiāng děng qǐng zài kuò hào lǐ tián shàng hé shì de shù
二、下面每组算式卡片的得数相等,请在括号里填上合适的数。

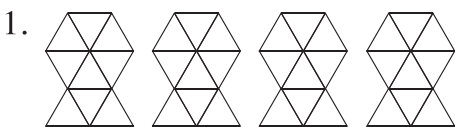
2×9
$() \times 9 - 9$
$() \times 9 + 9$

$() \times 9$
$7 \times 9 - 9$
$() \times 9 + 9$

$() \times 9$
$6 \times 9 + 9$
$() \times 9 - 9$

kàn tú liè shì jì suàn

三、看图列式计算。



$() \times () = ()$

口诀: _____



9角


$() \times () = () (\text{角})$

口诀: _____

四、做课间操啦! 二(1)班的同学站了5排,每排9人。

1. 二(1)班一共有多少人?

2. 二(2)班比二(1)班多一排,二(2)班一共有多少人?



能力提升

mǎi wén jù

五、买文具!



我买10支,需要付多少钱?

每支钢笔9元。



可以试着用乘加的方法计算哦!





第6课时 9的乘法口诀(1)

基础过关

bǎ kǒu jué bǔ chōng wán zhěng

一、把口诀补充完整。

二九(十八)

六九(五十四)

七九(六十三)

三九(二十七)

八九(七十二)

(四)九三十六

(五)九四十五

(九)九八十一

一(九)得九

zhí jiē xiě chū dé shù

二、直接写出得数。

$$3 \times 9 = 27$$

$$6 \times 9 = 54$$

$$9 \times 2 = 18$$

$$9 \times 5 = 45$$

$$4 \times 9 = 36$$

$$5 \times 9 = 45$$

$$8 \times 9 = 72$$

$$9 \times 7 = 63$$

$$9 \times 8 = 72$$

$$2 \times 9 = 18$$

$$9 \times 4 = 36$$

$$9 \times 3 = 27$$

zhǎo wèi zhì lián yì lián

三、找位置。(连一连)



$$5 \times 9$$



$$2 \times 9$$



$$9 \times 7$$



$$6 \times 9$$



$$8 \times 9$$

18

72

45

54

63

yí gòng yǒu duō shǎo piàn zhú bǎn

四、一共有多少片竹板？

$$5 \times 9 = 45(\text{片})$$

答：一共有45片竹板。



一个快板有5片竹板。



能力提升

kuài lè xiǎo cháng shì

五、快乐小尝试。

$$9 \times 1 = 10 - (1)$$

$$9 \times 2 = 20 - (2)$$

$$9 \times 3 = 30 - (3)$$

$$9 \times 4 = (40) - (4)$$

$$9 \times 5 = (50) - (5)$$

$$9 \times 6 = (60) - (6)$$

根据你发现的规律,再写出三个像上面这样的算式。

$$9 \times 7 = 70 - 7$$

$$9 \times 8 = 80 - 8$$

$$9 \times 9 = 90 - 9$$



第7课时 9的乘法口诀(2)

基础过关

kǒu suàn

一、口算。

$4 \times 9 = 36$

$9 \times 6 = 54$

$8 \times 9 = 72$

$9 \times 5 = 45$

$9 \times 2 = 18$

$9 \times 9 = 81$

$7 \times 9 = 63$

$1 \times 9 = 9$

xià miàn měi zǔ suàn shì kǎ piàn de dé shù xiāng děng qǐng zài kuò hào lǐ tián shàng hé shì de shù
二、下面每组算式卡片的得数相等,请在括号里填上合适的数。

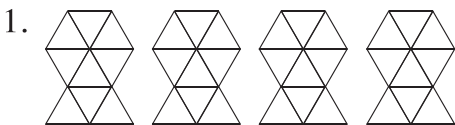
$$\begin{array}{|c|} \hline 2 \times 9 \\ \hline (3) \times 9 - 9 \\ \hline (1) \times 9 + 9 \\ \hline \end{array}$$

$$\begin{array}{|c|} \hline (6) \times 9 \\ \hline 7 \times 9 - 9 \\ \hline (5) \times 9 + 9 \\ \hline \end{array}$$

$$\begin{array}{|c|} \hline (7) \times 9 \\ \hline 6 \times 9 + 9 \\ \hline (8) \times 9 - 9 \\ \hline \end{array}$$


kàn tú liè shì jì suàn

三、看图列式计算。



$(9) \times (4) = (36)$

口诀: 四九三十六



9角

$(9) \times (7) = (63) (\text{角})$

口诀: 七九六十三

四、做课间操啦! 二(1)班的同学站了5排,每排9人。

1. 二(1)班一共有多少人?


$9 \times 5 = 45 (\text{人})$

答:二(1)班一共有45人。

2. 二(2)班比二(1)班多一排,二(2)班一共有多少人?

$5 + 1 = 6 (\text{排}) \quad 9 \times 6 = 54 (\text{人})$

答:二(2)班一共有54人。



能力提升

mǎi wén jù

五、买文具!



我买10支,需要付多少钱?

每支钢笔9元。



可以试着用乘加的方法计算哦!



$9 \times 9 + 9 = 90 (\text{元})$

答:需要付90元钱。(方法不唯一)